

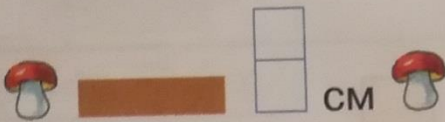



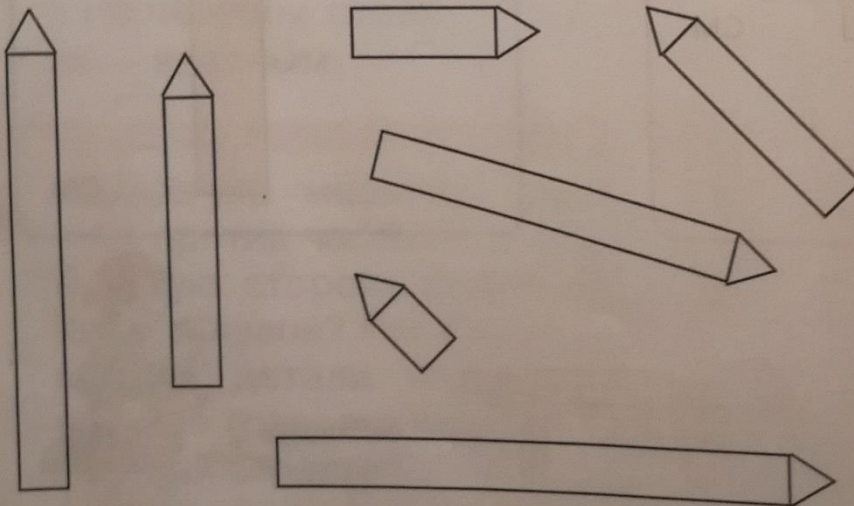


2 Выбери для забора доски нужной высоты. Объясни, где эти доски лежат.




3 Раскрась карандаши в зависимости от их длины.

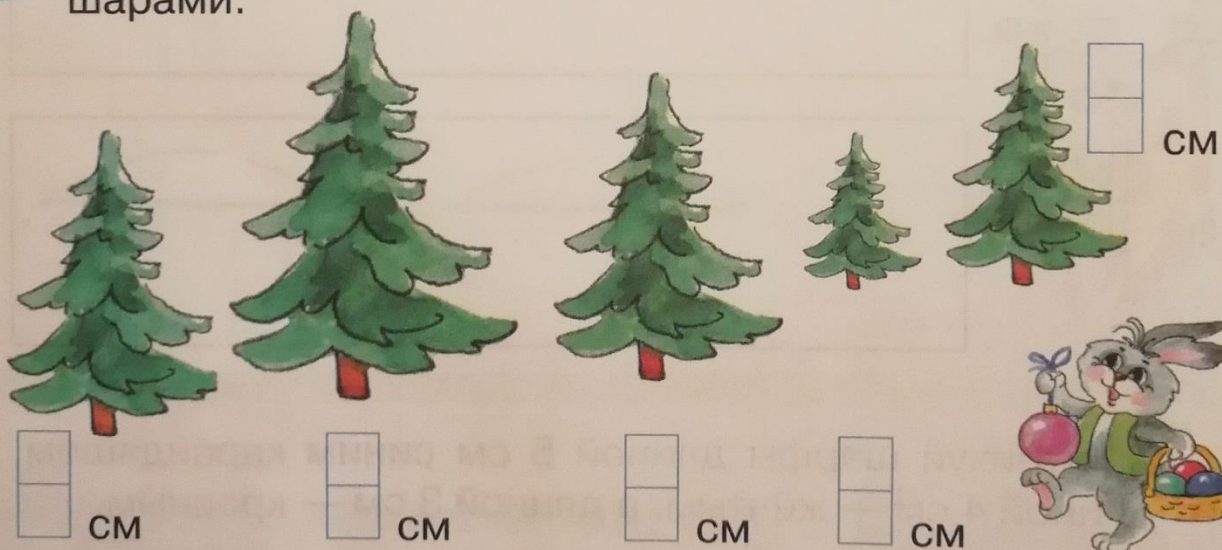


- 1 см —
- 2 см —
- 3 см —
- 4 см —
- 5 см —
- 6 см —
- 7 см —


- 4 К паровозу, идущему налево, прикрепи вагоны длиной 2 см, а к паровозу, который идёт направо — длиной 3 см. В каком составе больше вагонов? На сколько?



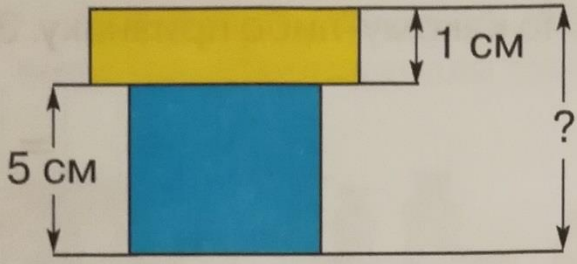
- 5 Укрась макушки ёлок одинаковой высоты красными шарами.



- 6 Продолжи узор.



4

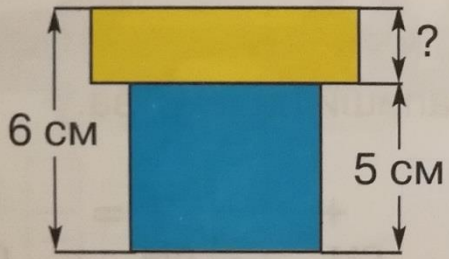


$$\begin{array}{|c|} \hline \\ \hline \\ \hline \text{CM} \\ \hline \end{array} + \begin{array}{|c|} \hline \\ \hline \\ \hline \text{CM} \\ \hline \end{array} = \begin{array}{|c|} \hline \\ \hline \\ \hline \text{CM} \\ \hline \end{array}$$

$$\begin{array}{|c|} \hline \\ \hline \\ \hline \text{CM} \\ \hline \end{array} + \begin{array}{|c|} \hline \\ \hline \\ \hline \text{CM} \\ \hline \end{array} = \begin{array}{|c|} \hline \\ \hline \\ \hline \text{CM} \\ \hline \end{array}$$



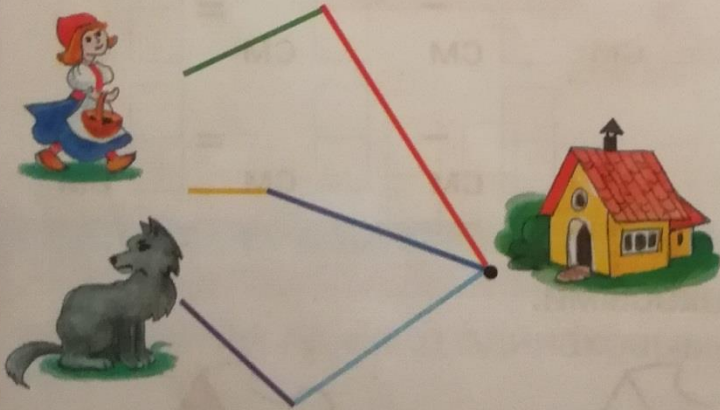
$$\begin{array}{|c|} \hline \\ \hline \\ \hline \text{CM} \\ \hline \end{array} - \begin{array}{|c|} \hline \\ \hline \\ \hline \text{CM} \\ \hline \end{array} = \begin{array}{|c|} \hline \\ \hline \\ \hline \text{CM} \\ \hline \end{array}$$



$$\begin{array}{|c|} \hline \\ \hline \\ \hline \text{CM} \\ \hline \end{array} - \begin{array}{|c|} \hline \\ \hline \\ \hline \text{CM} \\ \hline \end{array} = \begin{array}{|c|} \hline \\ \hline \\ \hline \text{CM} \\ \hline \end{array}$$

5

Отправь Волка самым длинным путём, а Красную Шапочку — самым коротким.



$$\begin{array}{|c|} \hline \\ \hline \\ \hline \text{CM} \\ \hline \end{array} + \begin{array}{|c|} \hline \\ \hline \\ \hline \text{CM} \\ \hline \end{array} = \begin{array}{|c|} \hline \\ \hline \\ \hline \text{CM} \\ \hline \end{array}$$

$$\begin{array}{|c|} \hline \\ \hline \\ \hline \text{CM} \\ \hline \end{array} + \begin{array}{|c|} \hline \\ \hline \\ \hline \text{CM} \\ \hline \end{array} = \begin{array}{|c|} \hline \\ \hline \\ \hline \text{CM} \\ \hline \end{array}$$

$$\begin{array}{|c|} \hline \\ \hline \\ \hline \text{CM} \\ \hline \end{array} + \begin{array}{|c|} \hline \\ \hline \\ \hline \text{CM} \\ \hline \end{array} = \begin{array}{|c|} \hline \\ \hline \\ \hline \text{CM} \\ \hline \end{array}$$

