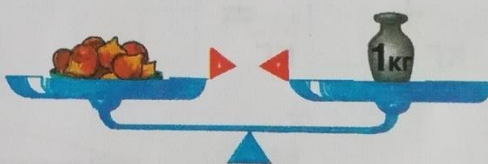







1 С помощью знаков $>$ и $<$ сравни по массе орехи и грибы.



2 Какова масса яблок и картошки?




кг



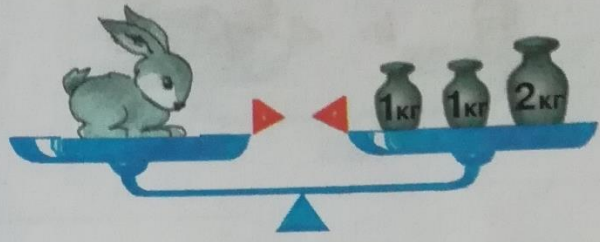
кг

3


Найди массу зверушек. Посади всех зверушек на качели так, чтобы качели были в равновесии.




$$\begin{array}{|c|} \hline \\ \hline \end{array} \text{ кг} + \begin{array}{|c|} \hline \\ \hline \end{array} \text{ кг} = \begin{array}{|c|} \hline \\ \hline \end{array} \text{ кг}$$




$$\begin{array}{|c|} \hline \\ \hline \end{array} \text{ кг} + \begin{array}{|c|} \hline \\ \hline \end{array} \text{ кг} + \begin{array}{|c|} \hline \\ \hline \end{array} \text{ кг} = \begin{array}{|c|} \hline \\ \hline \end{array} \text{ кг}$$



$$\begin{array}{|c|} \hline \\ \hline \end{array} \text{ кг} + \begin{array}{|c|} \hline \\ \hline \end{array} \text{ кг} + \begin{array}{|c|} \hline \\ \hline \end{array} \text{ кг} = \begin{array}{|c|} \hline \\ \hline \end{array} \text{ кг}$$



$$\begin{array}{|c|} \hline \\ \hline \end{array} \text{ кг} + \begin{array}{|c|} \hline \\ \hline \end{array} \text{ кг} = \begin{array}{|c|} \hline \\ \hline \end{array} \text{ кг}$$



$$\begin{array}{|c|} \hline \\ \hline \end{array} \text{ кг} + \begin{array}{|c|} \hline \\ \hline \end{array} \text{ кг} = \begin{array}{|c|} \hline \\ \hline \end{array} \begin{array}{|c|} \hline \\ \hline \end{array} \text{ кг}$$

$$\begin{array}{|c|} \hline \\ \hline \end{array} \text{ кг} + \begin{array}{|c|} \hline \\ \hline \end{array} \text{ кг} = \begin{array}{|c|} \hline \\ \hline \end{array} \begin{array}{|c|} \hline \\ \hline \end{array} \text{ кг}$$

4

Сделай гусениц одинаковыми.

